

سئوالات تشریحی :

۱- چه تفاوتی بین save و Save as وجود دارد؟ (۱)

۲- استفاده از گزینه امکان انتخاب یکی از طرحهای پیش ساخته را می دهد. (۱)

۳- برای ذخیره سازی سند از کلید ترکیبی استفاده می شود. (۱)

۴- دو تفاوت نرم افزارهای برداری و نقشه بیتی را بنویسید؟ (۱.۵)

۵- کاربرد هر یک از فرمانهای زیر را بنویسید. (هر کدام ۱)

a. Insert Page

b. New

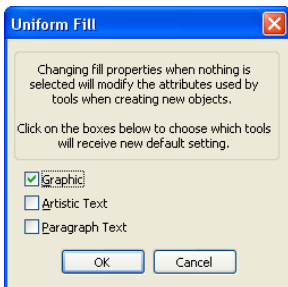
c. Page Setup

۶- پالت Scrap Book از این مسیر باز می شود؟ (۱)

۷- با کلیک بر روی دکمه در نوار ابزار استاندارد یک صفحه جدید ایجاد می شود. (۱)

۸- کادر مقابل در چه صورت دیده می شود و معنی آن چیست؟(۱.۵)

۹- حداقل حافظه اصلی RAM کارت گرافیک برای نصب Corel Draw چقدر است؟(۱)



د- ۱۲۸ مگابایت

ج- ۱ گیگابایت

ب- ۵۱۲ مگابایت

الف- ۲۵۶ مگابایت

۱۰- حجم کم فایل از مزیت های کدام برنامه می باشد؟(۱)

د- Corel Photo paint

ج- Corel Draw

ب- 3D Max

الف- Photoshop

۱۱- از این مسیر برای دسترسی به پالت رنگ در منو استفاده می شود؟(۱)

د- Tools → Options

ج- Tools → Dockers

ب- Window → Color Pallets

الف- Window → Dockers

۱۲- برای ایجاد تغییر در تنظیمات نرم افزار کدام گزینه صحیح است؟(۱)

د- Tools → Preferences

ج- Tools → Options

ب- Tools → Preferences

الف- Edit → Preferences

۱۳- از این فرمان برای نمایش خط کشها در محیط برنامه Corel draw استفاده می شود؟(۱)

د- view → Rulers

ج- Edit → Rulers

ب- Edit → Grid

الف- View → Grid

۱۴- پسوند اصلی در برنامه corel Draw چیست؟(۱)

د- EPS

ج- FH11

ب- CDR

الف- PSD

۱۵- از این فرمان در منوی Layout برای تغییر جهت کاغذ استفاده می شود؟(۱)

د- Delete page

ج- Go to Page

ب- Switch Page Orientation

الف- Rename Page

۱۶- از این ابزار برای رسم مستطیل با کمک سه نقطه استفاده می شود؟(۱)

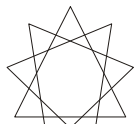
د- Circle

ج- Pie

ب- 3 Point Rectangle

الف- 3Point Curve

۱۷- شکل ۱ با کدام ابزار ترسیم شده است؟(۱)



شکل ۱

د- Spiral

ج- Complex Star

ب- Star tools

الف- Circle tools

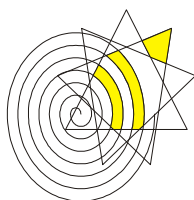
۱۸- شکل ۲ با چه فرمانی از روی شکل یک بدست آمده است؟(۱)

د- Smart fill

ج- Clone

ب- Copy → Paste

الف- Smart drawing



شکل ۱



شکل ۲

موفق و پیروز باشید
عرب پور